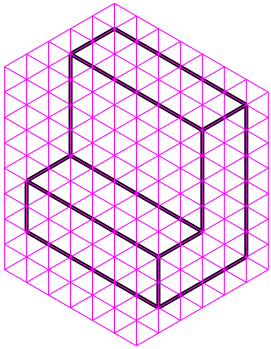


評価基準

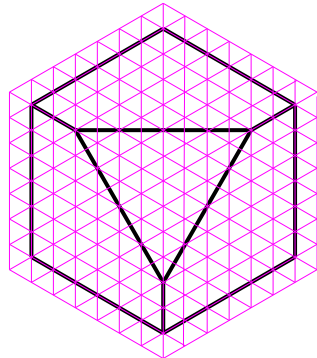
- (1) 理解：第三角法を理解しているか，立体を正しく認識しているか。
- (2) 正確さ：正面図，平面図，側面図の位置，大きさ，線の太さ，線の種類は適切か。
- (3) 丁寧さ：線，文字，数値，曲線等が丁寧に描かれているか。
- (4) 早さ：与えられた時間内に課題を終えられるか。

課題：三面図を作成せよ。ただし，1目盛を5mmとする。
寸法線，寸法補助線および寸法は記入しないでよい。

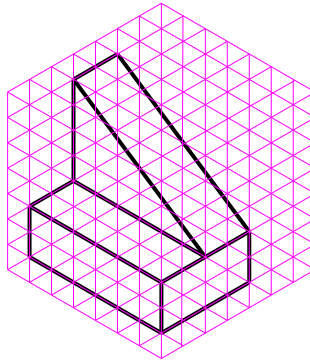
課題



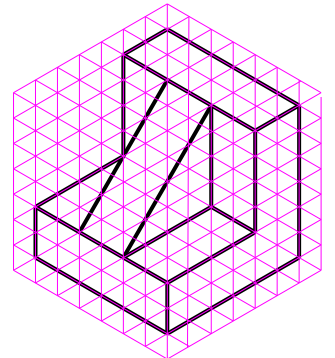
課題



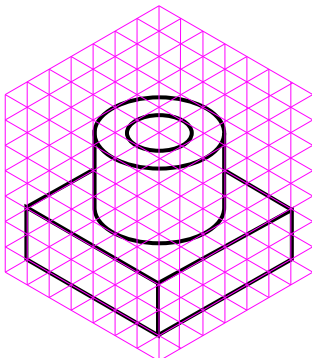
課題



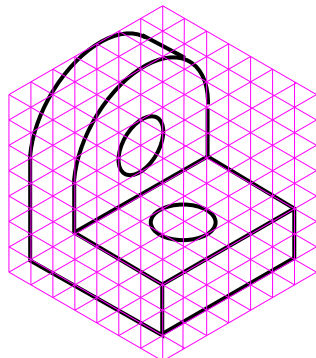
課題



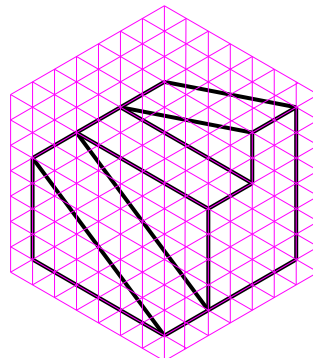
課題



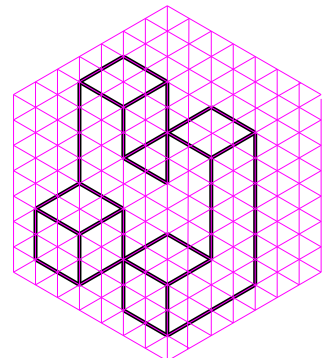
課題



課題



課題

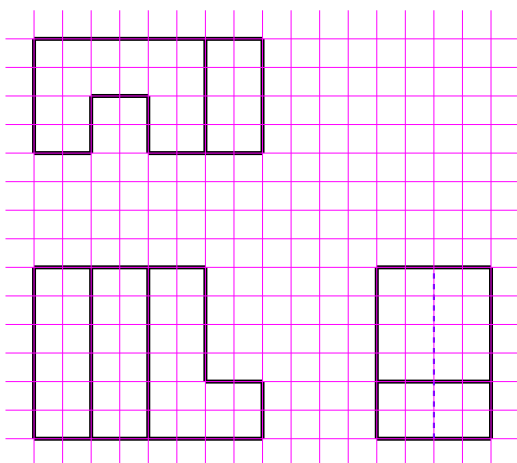


* 中心線を記入すること。

* 中心線を記入すること。

課題：次の三面図から斜投影図を作成せよ。ただし，1目盛を5mmとする。

課題



課題

