

注意：


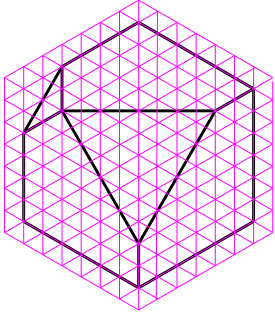
この用紙に回答を記入し，提出すること。
私語禁止。用具の貸し借り禁止。

学籍
番号

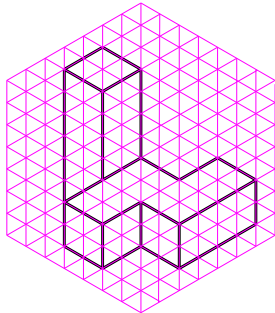
氏
名

【問 1】 次の等角図から，三面図を作成せよ。ただし，1目盛りを 5mm とする。

(1)



(2)



【問 2】 次の三面図から，斜投影図を作成せよ。ただし，1目盛りを 5mm とする。

